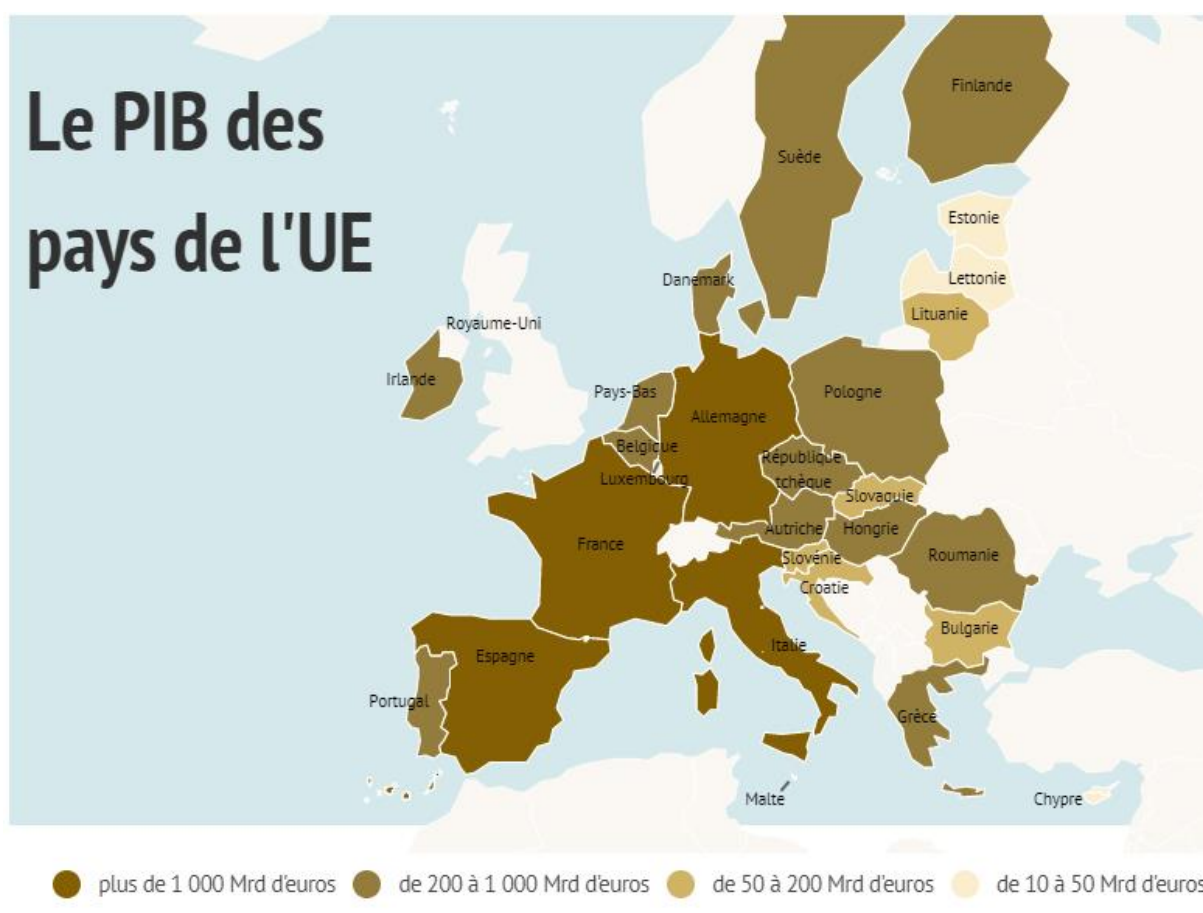


## Fiche 2 : L'Union européenne et ses territoires

Je vous invite à lire l'article que vous trouverez sur le site ci-dessous qui vous remémorera quelques points vus en Histoire sur le marché unique : <https://www.touteurope.eu/actualite/le-marche-unique-et-les-quatre-libertes-3-minutes-pour-comprendre-l-europe-n21.html>

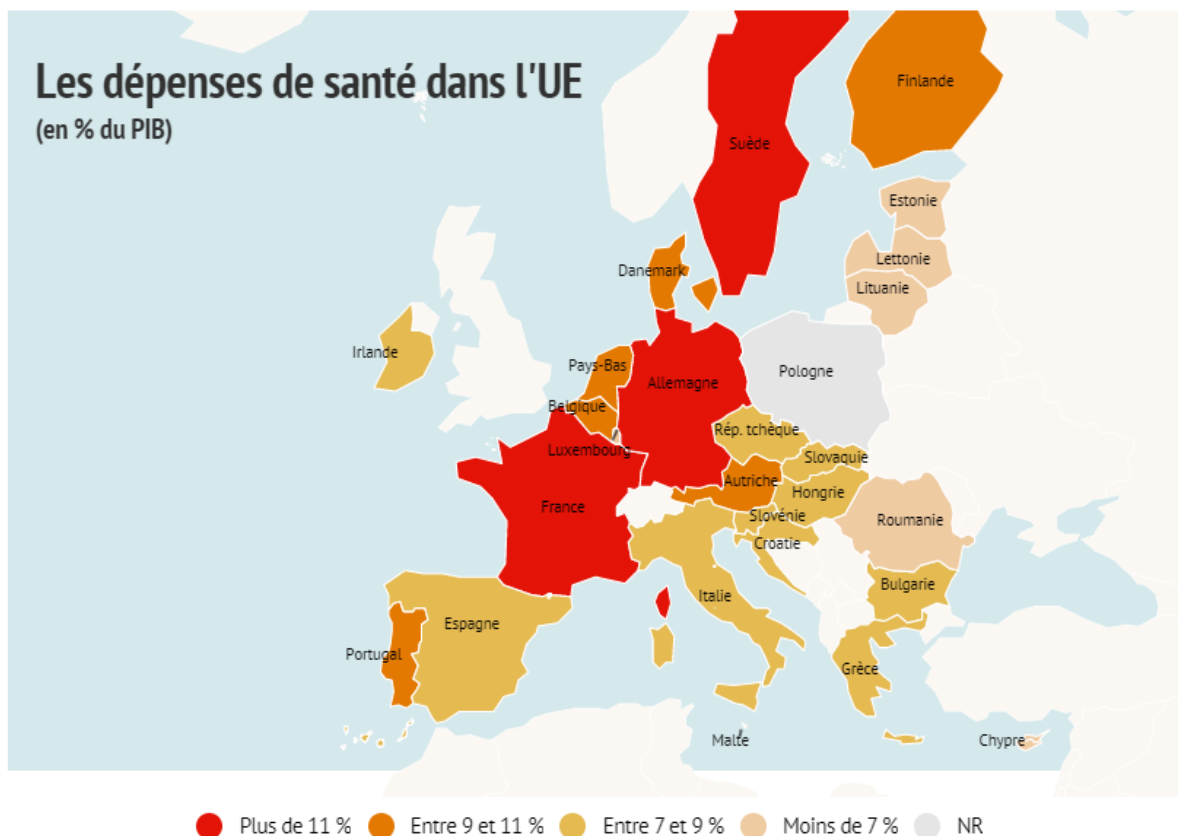
Après lecture, vous disposez ci-dessous d'un corpus de cartes, observez-les bien.

- Que cherche à représenter la première carte sur le PIB de l'UE ? Quel constat faites-vous ?
- Que cherche à représenter la deuxième carte sur les dépenses de santé dans l'UE ? Quel constat faites-vous ?
- Que cherche à représenter le graphique sur la contribution des Etats membre au budget européen ? Quel constat faites-vous ?
- Que cherche à représenter la troisième carte sur le budget européen ? Quel constat faites-vous ?



Description : PIB en SPA (2018)

Source : Eurostat (dernières données disponibles)



Les dépenses de santé exprimées en pourcentage du Produit intérieur brut  
Données : Eurostat février 2020 (données de l'année 2017)



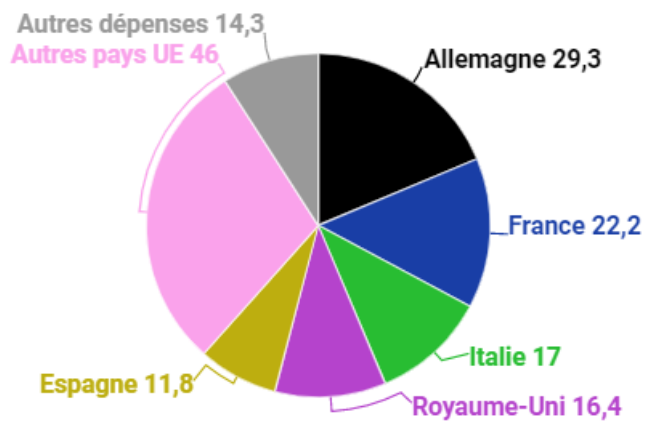
Les dépenses courantes de santé en Allemagne ont dépassé 360 milliards d'euros en 2017, soit la valeur la plus élevée des États membres de l'Union européenne. La France a, quant à elle, enregistré le deuxième niveau le plus élevé de dépenses courantes de santé (260 milliards d'euros).

Cette année-là, en comparaison du PIB, la France est le pays qui a le plus dépensé dans sa santé (11,3%). Viennent ensuite l'Allemagne (11,25%), la Suède (11%), l'Autriche (10,4%) la Belgique (10,3%), le Danemark et les Pays-Bas (10,1%).

A l'inverse, les dépenses de santé ont fluctué entre 6 et 7% dans les pays baltes et n'ont atteint que 5,2% du PIB en Roumanie, où la richesse par habitant est l'une des plus faibles d'Europe. Les dépenses courantes de santé atteignent seulement 9,7 milliards d'euros, soit 494 euros par habitant.

# La contribution des Etats membres au budget européen

Montant versé par chaque Etat membre au budget européen 2018, en milliards d'euros



Source : Commission européenne

## Budget européen : les contributeurs et les bénéficiaires nets

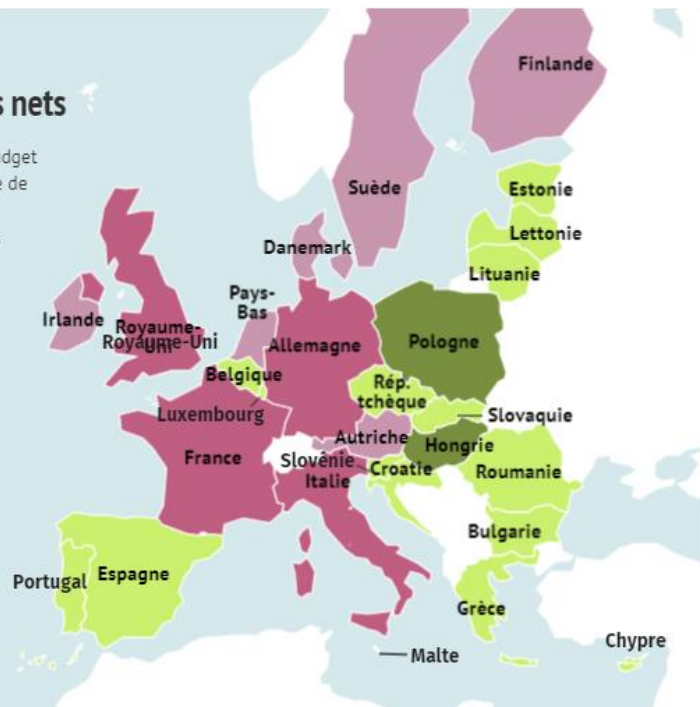
Un "contributeur net" est un Etat qui contribue plus au budget européen qu'il n'en bénéficie, essentiellement sous forme de subventions européennes.

Un "bénéficiaire net" en bénéficie plus qu'il n'y contribue.

- Important contributeur net
- Contributeur net
- Bénéficiaire net
- Important bénéficiaire net

Chiffres du budget de l'Union européenne 2018 (le Royaume-Uni était alors membre de l'UE).

Source : Commission européenne.



## Vos constats traduits sous forme d'un petit croquis :

A rendre



**disparités\*** : à chercher dans le dictionnaire, si vous avez oublié ce qu'il signifie

A la lecture des cartes, vous avez fait plus haut différents constats.

Avez-vous constaté des **disparités\*** au sein des territoires européens ?

z-vous constaté ? Tous les pays de l'Union européenne sont-ils au même niveau économique ?

Pourriez-vous écrire votre analyse (votre réponse) dans l'encadré ci-dessous. Sur la carte ensuite, vous colorierez **en vert** tous les pays de l'Union européenne, puis en vous appuyant sur les cartes et vos réponses, vous hachurerez :

- **en rouge** les pays les dits les plus riches de l'Union européenne ; 
- **en bleu** ceux dits les plus pauvres. 

### Vos constats :

*J'ai constaté que,*

.....

.....

.....

.....

.....

.....

.....

.....

.....

.....

.....

.....

.....

.....

.....

.....

.....

.....

.....

.....

.....

.....

### Des disparités économiques au sein de l'Union européenne



## Conclure votre réponse au sujet 3ème et dernier jet

Dans son article du 18 mars 2020, le journal *Le Monde* écrit : « La Commission a dû rappeler à des Etats fondateurs comme la France et l'Allemagne que l'interdiction d'exportation de matériel médical vers d'autres pays de l'UE était une infraction aux règles du marché unique. [...] En l'espace de quelques jours, des frontières ont ressurgi au sein de l'Union là où la convention de Schengen, signée en 1985, les avait effacées. »

**Consigne :** Sur une copie, reprenez ce que vous aviez écrit sur la fiche 2, et poursuivez votre réponse au sujet en vous appuyant cette fois sur expliquant la phrase suivante du journal *Le Monde* : « *La Commission a dû rappeler à des Etats fondateurs comme la France et l'Allemagne que l'interdiction d'exportation de matériel médical vers d'autres pays de l'UE était une infraction aux règles du marché unique.* »

Pour ce paragraphe, vous commencerez par expliquer comment s'organise le territoire européen (centre et périphérie), puis vous expliquerez pourquoi la France et l'Allemagne ont obligation selon les règles du marché unique d'exporter du matériel médical vers d'autres pays européens de l'UE si besoin.

---

### Petit bonus :

J'aimerais avoir votre avis personnel cette fois. Que pensez-vous de la fermeture des frontières externes de l'Espace Schengen en période de pandémie du coronavirus ? Si les frontières de l'espace Schengen sont fermées, y avait-il nécessité selon vous de fermer les frontières internes des pays, comme les frontières franco-allemandes par exemple ? Quels avantages ? Quels problèmes ?

