

Quizizz

Le marché concurrentiel

Name : _____

Class : _____

Date : _____

1. **Q1 : M : Parmi les propositions suivantes, sélectionnez celle qui montre que le marché est une institution**
- a) a- La grande diversité des marchés
- b) b- L'existence de règles formelles et informelles qui encadrent son fonctionnement
- c) c- La présence de nombreux acteurs
2. **Q2 : M : Parmi les propositions suivantes, sélectionnez celles qui correspondent à un marché concurrentiel**
- a) a- Un marché avec de nombreux acheteurs et vendeurs de biens différents
- b) b- Un marché avec de nombreux acheteurs et vendeurs du même bien
- c) c- Un marché avec de nombreux acheteurs et peu de vendeurs du même bien
- d) d- Un marché avec de nombreux acheteurs et peu de vendeurs de biens différents
3. **Q3 : M: Sur les marchés compétitifs où on trouve un grand nombre d'entreprises et qu'aucune n'a d'impact sur le prix, on dit que les entreprises sont :**
- a) a- Price maker
- b) b- Price taker
- c) c- Price shaker
4. **Q3 : M : Un marché constitué de quelques offreurs face à une multitude d'acheteurs, c'est :**
- a) a- Un monopole
- b) b- Un oligopole
- c) c- Un monopsonne
5. **Q4 : M : Un monopole c'est :**
- a) a- Un offreur pour une multitude d'acheteurs
- b) b- Un acheteur pour une multitude d'offreurs
- c) c- Quelques acheteurs pour une multitude d'offreurs
6. **Q5 : A : Suite à une augmentation des prix, la courbe de demande se déplace vers la droite**
- a) a- Vrai
- b) b- Faux

7. **Q6 : A : Une courbe d'offre se déplace si :**

- a) a- Le prix du bien diminue b) b- Les quantités offertes changent ainsi que le prix
- c) c- Les quantités offertes changent pour un même prix

8. **Q7 : A : Suite au passage d'un cyclone dévastateur, la moitié de la production de tomates est détruite, cela se traduit par :**

- a) a- Un déplacement de la courbe d'offre vers la droite b) b- Un déplacement de la courbe de demande vers la gauche
- c) c- Un déplacement de la courbe d'offre vers la gauche

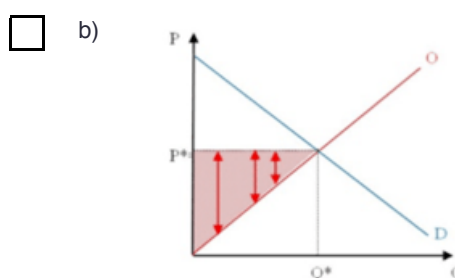
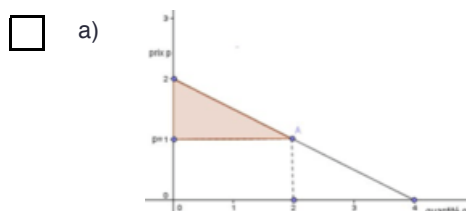
9. **Q8 : C : En situation de concurrence pure et parfaite, le prix**

- a) **du marché :** b) b- Est supérieur au coût marginal de l'entrepreneur
- a- Est égal au coût marginal de l'entrepreneur
- c) c- Est inférieur au coût marginal de l'entrepreneur

10. **Q9 : C : Le surplus du producteur correspond :**

- a) a- A la somme des prix auxquels le producteur est disposé à vendre b) b- A la différence entre le prix du marché et le prix auquel le producteur était disposé à vendre
- c) c- A la somme des prix auxquels le producteur peut vendre

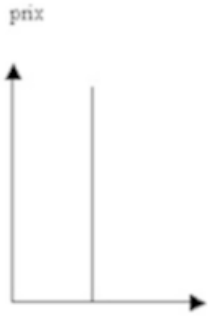
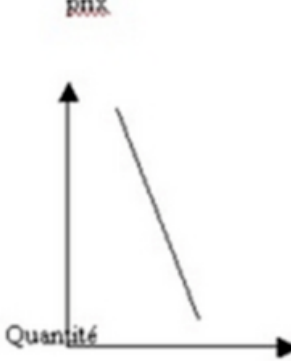
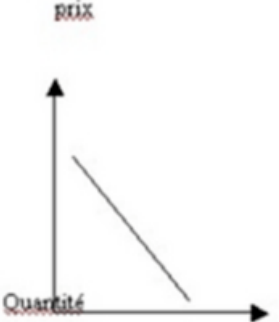
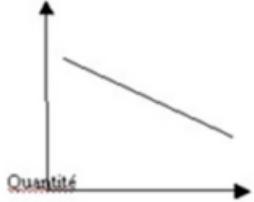
11. **Q9 :A-U: Parmi les graphiques ci-dessous, sélectionnez celui qui correspond au surplus du consommateur**



12. **Q10 : A : On suppose qu'une librairie propose des manuels à un prix de 30 euros. Cathie était disposée à payer 59 euros, son surplus est de :**

- a) a- 29 euros b) b- 89 euros
 c) c- Aucune réponse

13. **Q11 :A : Parmi les graphiques ci-dessous, sélectionnez celui qui correspond à une demande parfaitement inélastique**

- a) 
- b) 
- c) 
- d) 

14. **Q12- La somme du surplus du consommateur et celui du producteur correspond au gain à l'échange :**

- a) a- Vrai b) b- Faux

Answer Key

1. b
2. b
3. b
4. b
5. a
6. b
7. c
8. c
9. a
10. b
11. a
12. a
13. a
14. a