
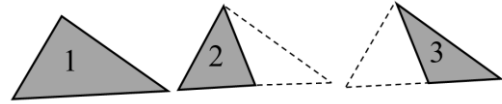




Activité préparatoire Eurêka

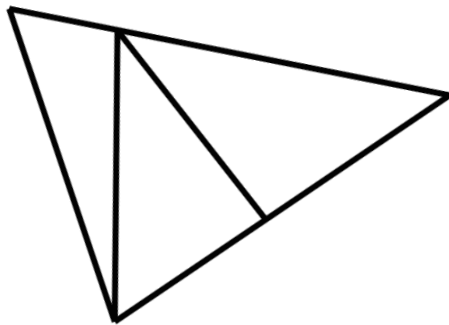
"Triangles cachés"

Dans cette figure , on peut voir 3 triangles :

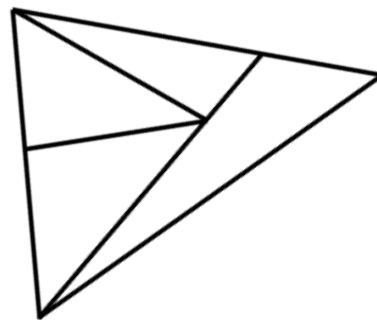


Combien de triangles y a-t-il dans les figures suivantes ?

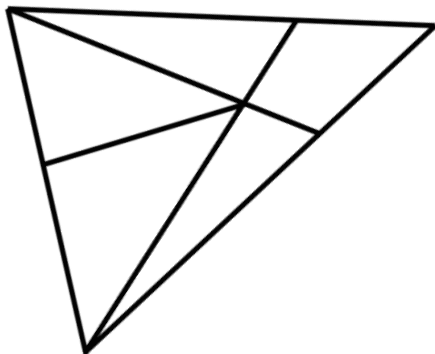
NIVEAU 1



NIVEAU 2



NIVEAU 3



NIVEAU 4

